

AGENTE DE APOIO ADMINISTRATIVO

20/05/2012

PROVAS	QUESTÕES
LÍNGUA PORTUGUESA	01 a 20
MATEMÁTICA	21 a 40


SÓ ABRA ESTE CADERNO QUANDO AUTORIZADO

LEIA ATENTAMENTE AS INSTRUÇÕES

1. Quando for permitido abrir o caderno, verifique se ele está completo ou se apresenta imperfeições gráficas que possam gerar dúvidas. Em seguida, verifique se ele contém 40 questões.
2. Cada questão apresenta quatro alternativas de resposta, das quais apenas uma é a correta. Preencha, no cartão-resposta, a letra correspondente à resposta assinalada na prova.
3. O cartão-resposta é personalizado e não será substituído em caso de erro, durante o seu preenchimento. Ao recebê-lo, verifique se seus dados estão impressos corretamente; se for constatado algum erro, notifique ao aplicador de prova.
4. As provas terão a duração de quatro horas, já incluídas nesse tempo a marcação do cartão-resposta e a coleta da impressão digital.
5. Você só poderá retirar-se definitivamente da sala e do prédio após terem decorrido **duas horas** de prova e poderá levar o caderno de prova somente no decurso dos últimos **trinta minutos** anteriores ao horário determinado para o término da prova, desde que permaneça em sala até esse momento.
6. **AO TERMINAR, DEVOLVA O CARTÃO-RESPOSTA AO APLICADOR DE PROVA.**

LÍNGUA PORTUGUESA

Para responder às questões de **01** a **05**, leia a tira a seguir.



Disponível em: <http://centraldastiras.blogspot.com.br/2010/09/garfield-pegue-o.html>. Acesso em 20 mar. 2012.

— QUESTÃO 01 —

Para a produção efetiva de sentidos da tira,

- (A) a interpretação da linguagem não verbal é desnecessária.
- (B) a decodificação da linguagem verbal é o mais importante.
- (C) a compreensão da linguagem verbal é suficiente.
- (D) a leitura das linguagens verbal e não verbal é fundamental.

— QUESTÃO 02 —

A tira apresenta

- (A) a descrição de um relacionamento entre um homem e um gato.
- (B) uma pequena história envolvendo um homem, um gato e um rato.
- (C) uma argumentação sobre o comportamento de um rato.
- (D) uma orientação às pessoas que criam gatos.

— QUESTÃO 03 —

No primeiro quadrinho da tira, ao dizer “Aquele rato”, o homem

- (A) mostra o rato.
- (B) descreve o rato.
- (C) qualifica o rato.
- (D) chama o rato.

— QUESTÃO 04 —

No segundo quadrinho da tira, a fala da personagem expressa

- (A) uma possibilidade.
- (B) uma dúvida.
- (C) uma ordem.
- (D) um desejo.

— QUESTÃO 05 —

O efeito de humor produzido pela tira deve-se, principalmente, ao fato de

- (A) o rato roubar o biscoito do gato.
- (B) o homem falar com o gato.
- (C) o gato pegar o biscoito ao invés de pegar o rato.
- (D) o gato e o homem se comunicarem pelo pensamento.

Para responder às questões de **06** a **10**, leia o texto a seguir.

PRECISO URGENTE!!!!!!

DE ALGUMA COISA **Q** EU POSSA TRABALHAR EM MINHA CASA COMO DOBRAR, COLAR, FAZER, CORTAR. ALGUM TRABALHO MANUAL, E **Q** ME **D** UMA BOA RENDA. PODE SER QUALQUER COISA. EU TENHO 30 ANOS E SOU BEM ÁGIL, E TENHO MUITA FACILIDADE DE APRENDIZADO.

Data: 20/03/2012

Nome: Maria

E-mail: maria@mail.com

Telefone: (00) 00000000

Disponível em: <http://www.opopularns.com.br>. Acesso em 20 mar. 2012. [Adaptado].

— QUESTÃO 06 —

A função desse texto é

- (A) anunciar a necessidade de uma pessoa conseguir trabalho.
- (B) noticiar um fato acontecido no dia.
- (C) divulgar um produto novo no mercado.
- (D) oferecer novas vagas de emprego ao público interessado.

— QUESTÃO 07 —

O uso de “Q” e “D”, conforme destacado no texto, em lugar das palavras “que” e “de”

- (A) denuncia falta de conhecimento, por parte da autora do texto, sobre as regras da língua escrita.
- (B) caracteriza as regras de produção de um anúncio classificado, que tem espaço reduzido para publicação.
- (C) impossibilita ao leitor a compreensão da ideia expressa pela autora.
- (D) demonstra que o site não cuida da revisão dos anúncios divulgados.

— QUESTÃO 08 —

A expressão “trabalho manual” tem sentido equivalente a

- (A) trabalho orientado por normas.
- (B) trabalho fácil de fazer.
- (C) trabalho produzido por máquinas.
- (D) trabalho feito com as mãos.

— QUESTÃO 09 —

As informações como nome, e-mail e telefone, acrescentadas ao texto, têm como principal finalidade

- (A) identificar a autora e tudo que ela se dispõe a fazer para todos os leitores.
- (B) garantir que a pessoa que faz o anúncio tem endereço e telefone fixos.
- (C) possibilitar o contato entre os interessados na oferta de serviço e autora.
- (D) aumentar a quantidade de letras para que o meio de divulgação lucre mais.

— QUESTÃO 10 —

Em “dobrar, colar, fazer, cortar”, as vírgulas separam uma enumeração de

- (A) objetos.
- (B) ações.
- (C) qualidades.
- (D) sentimentos.

Leia o texto a seguir, para responder às questões de 11 a 20.

O padeiro

Levanto cedo, faço minhas abluções, ponho a chaleira no fogo para fazer café e abro a porta do apartamento - mas não encontro o pão costureiro. No mesmo instante me lembro de ter lido alguma coisa nos jornais da véspera sobre a “greve do pão dormido”. De resto não é bem uma greve, é um *lock-out*, greve dos patrões, que suspenderam o trabalho noturno; acham que obrigando o povo a tomar seu café da manhã com pão dormido conseguirão não sei bem o que do governo.

Está bem. Tomo o meu café com pão dormido, que não é tão ruim assim. Enquanto tomo café vou me lembrando de um homem modesto que conheci antigamente. Quando vinha deixar o pão à porta do apartamento ele apertava a campainha, mas, para não incomodar os moradores, avisava gritando:

- Não é ninguém, é o padeiro!

Interroguei-o uma vez: como tivera a ideia de gritar aquilo? “Então você não é ninguém?”

Ele abriu um sorriso largo. Explicou que aprendera aquilo de ouvido. Muitas vezes lhe acontecera bater a campainha de uma casa e ser atendido por uma empregada ou outra pessoa qualquer, e ouvir uma voz que vinha lá de dentro perguntando quem era; e ouvir a pessoa que o atendera dizer para dentro: “não é ninguém, não, senhora, é o padeiro”. Assim ficara sabendo que não era ninguém...

Ele me contou isso sem mágoa nenhuma, e se despediu ainda sorrindo. Eu não quis detê-lo para explicar que estava falando com um colega, ainda que menos importante. Naquele tempo eu também, como os padeiros, fazia o traba-

lho noturno. Era pela madrugada que deixava a redação de jornal, quase sempre depois de uma passagem pela oficina - e muitas vezes saía já levando na mão um dos primeiros exemplares rodados, o jornal ainda quentinho da máquina, como o pão saído do forno.

Ah, eu era rapaz, eu era rapaz naquele tempo! E às vezes me julgava importante porque no jornal que levava para casa, além de reportagens ou notas que eu escrevera sem assinar, ia uma crônica ou artigo com o meu nome. O jornal e o pão estariam bem cedinho na porta de cada lar; e dentro do meu coração eu recebi a lição de humildade daquele homem entre todos útil e entre todos alegre; “não é ninguém, é o padeiro!”

E assobiava pelas escadas.

BRAGA, Rubem. *Crônicas I*. 28. ed. São Paulo: Ática, 2011. p. 70-71. (Coleção Para gostar de ler).

— QUESTÃO 11 —

O gênero crônica, a exemplo do texto “O padeiro”, é resultado do olhar do cronista para

- (A) experiências científicas.
- (B) acontecimentos do cotidiano.
- (C) temas religiosos.
- (D) fatos político-partidários.

— QUESTÃO 12 —

O que motiva a criação da crônica é

- (A) o esquecimento de fatos do passado.
- (B) a contrariedade pela falta do pão fresco.
- (C) a necessidade de criticar os grevistas.
- (D) o café da manhã com o pão dormido.

— QUESTÃO 13 —

O texto é narrado por um

- (A) padeiro humilde.
- (B) narrador desconhecido.
- (C) cronista saudos.
- (D) narrador fora da história.

— QUESTÃO 14 —

Uma das possibilidades de comparação entre padeiro e cronista é que

- (A) o pão e o jornal geralmente chegam cedo nas casas.
- (B) o trabalho desses profissionais é difícil de realizar.
- (C) eles são dois trabalhadores humildes e mal remunerados.
- (D) essas profissões são de pouca importância para a sociedade.

— QUESTÃO 15 —

Ao dizer, sem se importar, que não era ninguém, o padeiro mostra o seguinte traço de sua personalidade:

- (A) indiferença
- (B) apatia
- (C) humildade
- (D) menosprezo

— QUESTÃO 16 —

A frase “Ah, eu era rapaz, eu era rapaz naquele tempo!” sugere:

- (A) melancolia
- (B) depreciação
- (C) desprezo
- (D) inconformismo

— QUESTÃO 17 —

Qual das expressões caracteriza linguagem informal, própria da língua oral?

- (A) “trabalho noturno”
- (B) “pão dormido”
- (C) “sorriso largo”
- (D) “homem modesto”

— QUESTÃO 18 —

A palavra que obedece à mesma regra de acentuação de “máquina” é:

- (A) café
- (B) útil
- (C) ninguém
- (D) crônica

— QUESTÃO 19 —

Na passagem “Não é ninguém, é o padeiro!”, há um pronome:

- (A) pessoal
- (B) possessivo
- (C) indefinido
- (D) de tratamento

— QUESTÃO 20 —

A frase que expressa uma ação verbal no tempo presente é:

- (A) “Ele me contou isso sem mágoa nenhuma”
- (B) “não encontro o pão costumeiro”
- (C) “Ele abriu um sorriso largo”
- (D) “E assobiava pelas escadas”

— RASCUNHO —

MATEMÁTICA**— QUESTÃO 21 —**

O livro mais vendido de uma editora gera um lucro de R\$ 0,99 por exemplar. Em um trimestre, foram vendidos um milhão de exemplares desse livro, portanto, nesse período, o lucro, em reais, com a venda desse livro foi de

- (A) 99 000,00
- (B) 990 000,00
- (C) 9 900 000,00
- (D) 99 000 000,00

— QUESTÃO 22 —

Leia as informações a seguir.

O brasileiro consome cerca de 54,75 kg de açúcar durante os 365 dias do ano mas, o recomendado é de 100 gramas por dia.

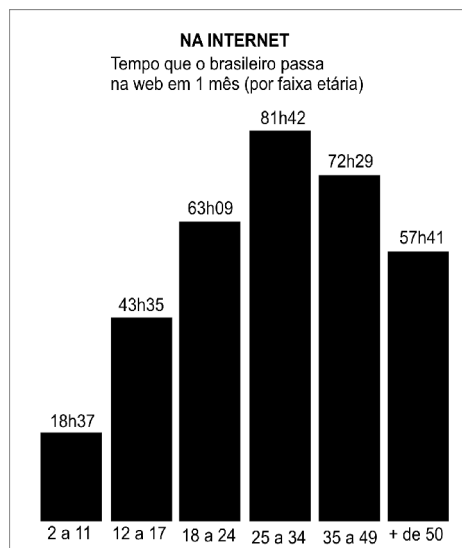
GALILEU, mar. 2011. p. 26 [Adaptado].

Nessas condições, quantos gramas de açúcar por dia o brasileiro consome a mais que o recomendado?

- (A) 15
- (B) 50
- (C) 85
- (D) 150

— QUESTÃO 23 —

O gráfico a seguir apresenta os dados de uma pesquisa sobre o tempo médio mensal gasto pelos brasileiros na internet, por faixa etária.



SUPERINTERESANTE, mar. 2012. p. 29. [Adaptado].

Considere que Ana e Felipe são brasileiros com idades de 40 e 60 anos respectivamente. De acordo com as informações do gráfico, quanto tempo Ana passa a mais que Felipe na internet por mês?

- (A) 14 h 48
- (B) 15 h 28
- (C) 25 h 28
- (D) 26 h 48

— QUESTÃO 24 —

Leia as informações a seguir.

O Produto Interno Bruto (PIB) goiano totalizou, em 2011, 102,8 bilhões de reais. O agronegócio foi responsável por 65% desse PIB.

TRIBUNA DO PLANALTO, 18 a 24 de mar. 2012. p. 4. [Adaptado].

Com base nas informações apresentadas, quanto o agronegócio representou, em bilhões de reais, do PIB goiano?

- (A) 66,82
- (B) 61,58
- (C) 56,54
- (D) 51,40

— QUESTÃO 25 —

No Brasil, a numeração de uma calça *jeans* feminina é determinada pelo seguinte cálculo: toma-se o comprimento do quadril, em centímetros, divide-se por dois e subtrai-se oito desse resultado. Nessas condições, uma calça *jeans* feminina de numeração 36, tem o comprimento do quadril, em centímetros, igual a

- (A) 56
- (B) 72
- (C) 80
- (D) 88

— QUESTÃO 26 —

Leia a informação a seguir.

O cabelo humano cresce de 1,2 cm a 2,5 cm por mês.

COMO FUNCIONA, mar. 2012. p.20. [Adaptado].

Considere uma pessoa que não corte e nem apare o cabelo até ele crescer 12,5 cm. Nessas condições, qual é o menor tempo, em meses, necessário para isso ocorrer?

- (A) 2
- (B) 3
- (C) 5
- (D) 10

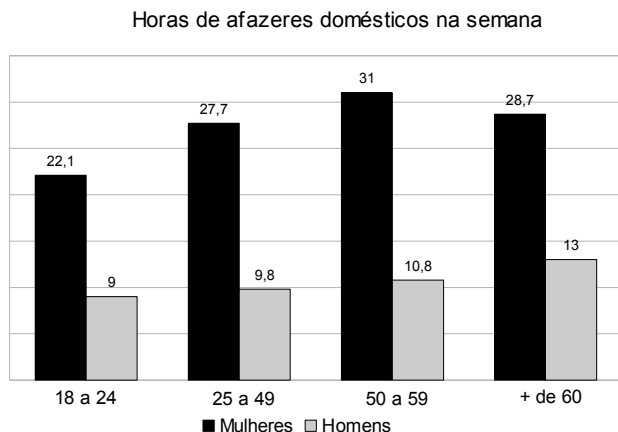
— QUESTÃO 27 —

Uma embalagem de sabão em pó com 4,5 kg custa R\$ 18,90. Nesta embalagem, o preço, em reais, de um kg desse produto custa:

- (A) 4,15
- (B) 4,20
- (C) 4,25
- (D) 4,75

— QUESTÃO 28 —

O gráfico a seguir mostra as horas semanais de afazeres domésticos de mulheres e homens por faixa etária.



SUPERINTERESSANTE, mar. 2012. p.29. [Adaptado].

De acordo com o gráfico, em qual faixa etária as horas semanais de afazeres domésticos das mulheres superam, em 17,9 horas semanais, o tempo dos homens da mesma faixa etária?

- (A) + de 60
- (B) 50 a 59
- (C) 25 a 49
- (D) 18 a 24

— QUESTÃO 29 —

Em 2011, o consumo mundial dos dezessete elementos chamados de terras raras foi de 150 mil toneladas. Considere igual o consumo mensal desses elementos no referido ano. Nestas condições, o consumo mensal de terras raras, em quilogramas, foi de

- (A) 12,5
- (B) 125 000
- (C) 1 250 000
- (D) 12 500 000

— QUESTÃO 30 —

Uma árvore retira do solo 1,1 mil litros de água por dia por meio da sua transpiração. Nesse processo, a árvore gasta 500 calorias para cada grama de água que transpira. Considere que cada litro de água corresponde a 1 kg. Nessas condições, qual é a quantidade de calorias gasta diariamente por essa árvore?

- (A) 550 000
- (B) 5 500 000
- (C) 550 000 000
- (D) 5 500 000 000

— QUESTÃO 31 —

Em uma fábrica, a produção de ovos de Páscoa recheados com bombons de coco nos três primeiros dias da semana foi de $\frac{1}{8}$, $\frac{1}{4}$ e $\frac{1}{16}$, respectivamente. Nessas condições, que fração da produção total, desses três dias, foi recheada com bombons de coco?

- (A) $\frac{7}{16}$
- (B) $\frac{3}{28}$
- (C) $\frac{7}{48}$
- (D) $\frac{3}{16}$

— QUESTÃO 32 —

Leia as informações a seguir.

Segundo os dados do Banco Central, as operações financeiras, em um determinado período, somaram mais de 166 bilhões de reais.

Disponível em: <<http://www.bcb.gov.br/?copom160>>. Acesso em: 10 abr. 2012. [Adaptado].

Quantos reais o algarismo 1 representa nesse valor?

- (A) 100 000 000,00
- (B) 1 000 000 000,00
- (C) 10 000 000 000,00
- (D) 100 000 000 000,00

— QUESTÃO 33 —

Para um dado produto, a cobrança do Imposto sobre Produtos Industrializados (IPI) é de 3%. Esse produto custa na indústria R\$ 1 325,00 e, para ser vendido ao consumidor, é acrescentado o valor do IPI. Qual é o preço de venda ao consumidor, em reais, desse produto?

- (A) 1 766,67
- (B) 1 722,50
- (C) 1 364,75
- (D) 1 328,97

— QUESTÃO 34 —

Um determinado automóvel tem 4,55 m de comprimento. A nova versão desse automóvel terá um aumento de 3,5 cm no comprimento. Assim, o comprimento, em centímetros, desse automóvel passará a ser de

- (A) 490,0
- (B) 480,0
- (C) 468,3
- (D) 458,5

— QUESTÃO 35 —

Leia a informação a seguir.

A cada R\$ 100,00 gastos por uma família de classe média, R\$ 41,00 são provenientes da renda feminina.

O POPULAR, 27 mar. 2012. p. 13. [Adaptado].

Nessas condições, a cada R\$ 2 500,00 gasto pela família, quantos reais correspondem a contribuição feminina?

- (A) 1 000,00
- (B) 1 025,00
- (C) 1 050,00
- (D) 1 075,00

— QUESTÃO 36 —

Um automóvel custa R\$ 37 500,00 e é vendido com uma entrada de 40% e o restante financiado em 36 parcelas mensais fixas sem juros. Nestas condições, o valor, em reais, de cada parcela é de

- (A) 611,11
- (B) 625,00
- (C) 630,55
- (D) 686,35

— QUESTÃO 37 —

Uma geladeira é vendida em 12 parcelas mensais fixas de R\$ 175,33 ou à vista por R\$ 1 659,00. Uma pessoa que compra essa geladeira à vista economiza, em reais,

- (A) 228,96
- (B) 334,96
- (C) 444,96
- (D) 556,96

— QUESTÃO 38 —

O consumo de chocolate em cada uma das quatro semanas do mês é sempre a metade da quantidade consumida na semana anterior. Considere que, na primeira semana do mês, foram consumidos 200 g de chocolate. Nestas condições, que fração a quantidade consumida na quarta semana representa da primeira semana?

- (A) $\frac{1}{8}$
- (B) $\frac{1}{4}$
- (C) $\frac{1}{50}$
- (D) $\frac{1}{25}$

— QUESTÃO 39 —

A tabela a seguir apresenta dois produtos da seção de frios de um supermercado e seus respectivos preços por quilograma.

Produto	Preços
Mortadela	R\$ 11,40
Mussarela	R\$ 15,80

De acordo com a tabela, quanto custam, em reais, 750 g de mussarela e 400 g de mortadela?

- (A) 11,85
- (B) 14,04
- (C) 15,31
- (D) 16,41

— QUESTÃO 40 —

A tabela a seguir mostra em reais, os valores de compra do Banco Central, de duas moedas estrangeiras.

Dólar (USA) – 1,81
Euro (Unidade Monetária Européia) – 2,41

O POPULAR. 28 mar. 2012. p.14. [Adaptado].

De acordo com a tabela, uma pessoa que vende ao Banco Central trinta euros e cinquenta dólares recebe, em reais,

- (A) 174,80
- (B) 162,80
- (C) 90,50
- (D) 72,30

— RASCUNHO —